

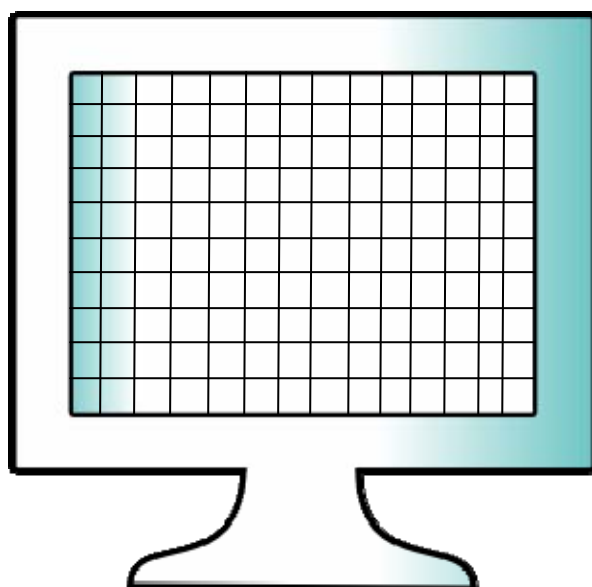
ΩΡΙΑΙΑ ΕΞΕΤΑΣΗ ΣΤΟ ΜΑΘΗΜΑ ΤΗΣ ΠΛΗΡΟΦΟΡΙΚΗΣ

ΘΕΜΑ 1: Να χαρακτηρίσετε ως σωστές ή λάθος, τις παρακάτω προτάσεις.

1. Το πρόσωπό μας θα πρέπει να είναι σε απόσταση 60 – 70 εκ. από την οθόνη του Η/Υ όσο εμείς δουλεύουμε σ'αυτόν.
2. Πρόγραμμα είναι ένα σύνολο από δεδομένα που πρόκειται να δοθούν για επεξεργασία στον Η/Υ .
3. Το Λειτουργικό Σύστημα διευθύνει τον Η/Υ όπως ο μαέστρος διευθύνει μια ορχήστρα.
4. Το «περιβάλλον εντολών γραμμής» ή «μη γραφικό περιβάλλον επικοινωνίας» το διαχειρίζεται ο χρήστης του Η/Υ με το ποντίκι του.

ΜΟΝΑΔΕΣ 4

ΘΕΜΑ 2: Δίνεται η παρακάτω εικόνα (οθόνη Η/Υ) .

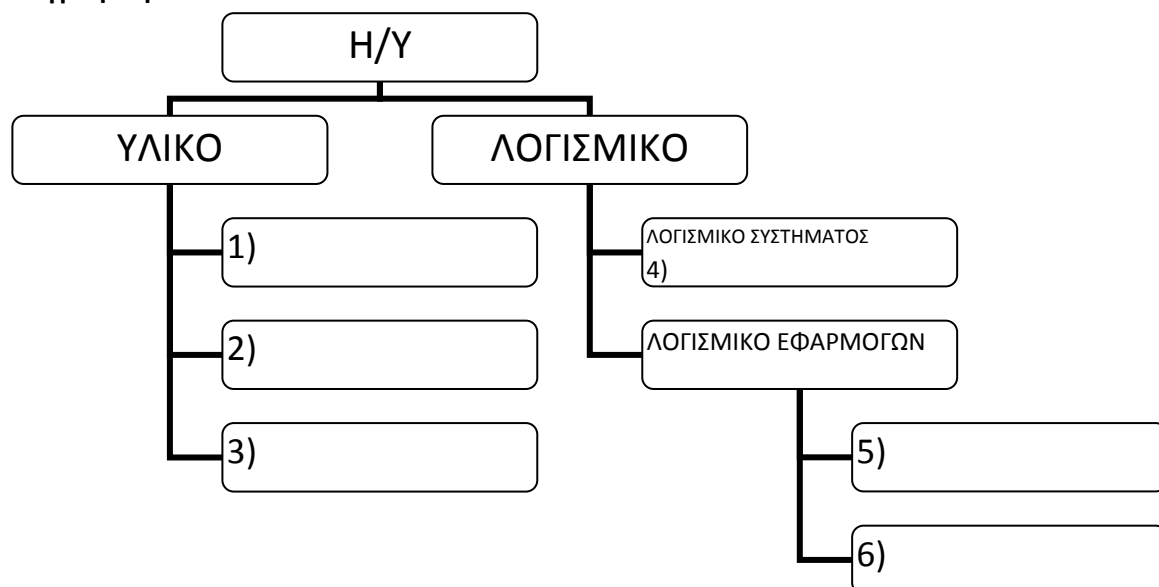


A) Με ποιο τρόπο βρέθηκε ότι η οθόνη έχει 19" μέγεθος;

B) Ποια είναι η ανάλυση της οθόνης;


ΜΟΝΑΔΕΣ 4

ΘΕΜΑ 3: Να συμπληρώσετε τα κενά (1, 2, 3, 4, 5 και 6) επιλέγοντας από τις παρακάτω λέξεις(φράσεις): Λειτουργικό Σύστημα, Κειμενογράφος, Δισκέτα, Οθόνη, Κεντρική Μονάδα, Ζωγραφική .



ΜΟΝΑΔΕΣ 6

ΘΕΜΑ 4: Λαμβάνοντας υπόψη σας τη σωστή στάση εργασίας στον υπολογιστή, να χαρακτηρίσετε την παρακάτω εικόνα. Κάθεται ή όχι σωστά ο χρήστης; Να αιτιολογήσετε την απάντησή σας.



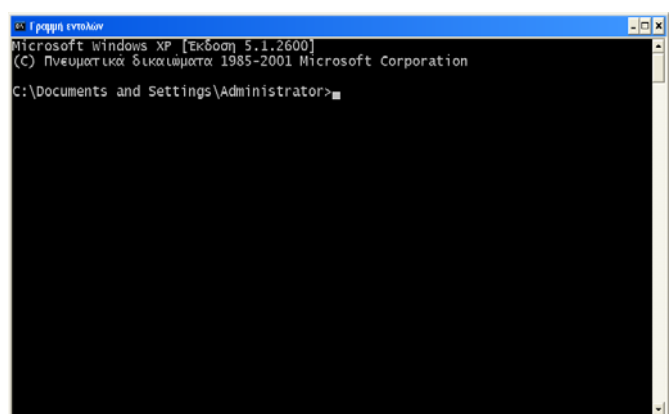
ΜΟΝΑΔΕΣ 3

ΘΕΜΑ 5: Παρακάτω δίνονται οι εικόνες δυο περιβαλλόντων επικοινωνίας με τον Η/Υ (το Α αριστερά και το Β δεξιά). Ποιο από τα δύο περιβάλλοντα επικοινωνίας είναι καταλληλότερο για έναν αρχάριο χρήστη και γιατί;

ΜΟΝΑΔΕΣ 3



Α περιβάλλον επικοινωνίας



Β περιβάλλον επικοινωνίας